




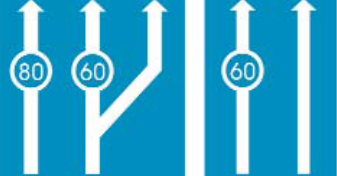










16.	Ποια είναι η σημασία του σήματος αυτού:	
α.	Ελάχιστο όριο ταχύτητας ανά λωρίδα κυκλοφορίας.	Λ
β.	Ανώτατο όριο ταχύτητας ανά λωρίδα κυκλοφορίας.	Σ
γ.	Γενικά, όρια ταχύτητας.	Λ


17.	Ποια είναι η σημασία του σήματος αυτού:	
α.	Ελάχιστο όριο ταχύτητας ανά λωρίδα κυκλοφορίας.	Σ
β.	Ανώτατο όριο ταχύτητας ανά λωρίδα κυκλοφορίας.	Λ
γ.	Γενικά, όρια ταχύτητας.	Λ


18.	Ποια είναι η σημασία του σήματος αυτού:	
α.	Ελάχιστο όριο ταχύτητας ανά λωρίδα κυκλοφορίας.	Λ
β.	Ανώτατο όριο ταχύτητας ανά λωρίδα κυκλοφορίας.	Λ
γ.	Γενικά, όρια ταχύτητας.	Σ

19.	Ποια είναι η σημασία του σήματος αυτού:	
α.	Κατεύθυνση εξόδου από αυτοκινητόδρομο.	Λ
β.	Κατεύθυνση εισόδου στον αυτοκινητόδρομο.	Σ
γ.	Αναγγελία προσεγγίσεως σε ανισόπεδο κόμβο αυτοκινητόδρομου.	Λ


20.	Ποια είναι η σημασία του σήματος αυτού:	
α.	Κατεύθυνση εξόδου από αυτοκινητόδρομο.	Λ
β.	Κατεύθυνση εισόδου στον αυτοκινητόδρομο.	Λ
γ.	Αναγγελία προσεγγίσεως σε ανισόπεδο κόμβο αυτοκινητόδρομου.	Σ

ΣΧΟΛΗ ΟΔΗΓΩΝ  
ΜΠΟΥΓΑΤΣΑΣ


21.	Ποια είναι η σημασία του σήματος αυτού:	
α.	Κατεύθυνση εξόδου από αυτοκινητόδρομο.	Σ
β.	Κατεύθυνση εισόδου στον αυτοκινητόδρομο.	Λ
γ.	Αναγγελία προσεγγίσεως σε ανισόπεδο κόμβο αυτοκινητόδρομου.	Λ

22.	<b>Ποια είναι η σημασία του σήματος αυτού:</b>	
α.	Διασταύρωση, όπου ισχύει η από δεξιά προτεραιότητα.	Σ
β.	Διακλάδωση με κάθετη οδό δεξιά, επί της οποίας οι κινούμενοι οφείλουν να παραχωρήσουν προτεραιότητα.	Λ
γ.	Διασταύρωση με οδό προτεραιότητας.	Λ

23.	<b>Ποια είναι η σημασία του σήματος αυτού:</b>	
α.	Διασταύρωση, όπου ισχύει η από δεξιά προτεραιότητα.	Λ
β.	Διακλάδωση με κάθετη οδό δεξιά, επί της οποίας οι κινούμενοι οφείλουν να παραχωρήσουν προτεραιότητα.	Σ
γ.	Διασταύρωση με οδό προτεραιότητας.	Λ


24.	<b>Ποια είναι η σημασία του σήματος αυτού:</b>	
α.	Υποχρεωτική παραχώρηση προτεραιότητας.	Σ
β.	Οδός προτεραιότητας.	Λ
γ.	Τέλος οδού προτεραιότητας.	Λ




25.	<b>Ποια είναι η σημασία του σήματος αυτού:</b>	
α.	Υποχρεωτική παραχώρηση προτεραιότητας.	Λ
β.	Οδός προτεραιότητας.	Σ
γ.	Τέλος οδού προτεραιότητας.	Λ


26.	<b>Ποια είναι η σημασία του σήματος αυτού:</b>	
α.	Υποχρεωτική παραχώρηση προτεραιότητας.	Λ
β.	Οδός προτεραιότητας.	Λ
γ.	Τέλος οδού προτεραιότητας.	Σ


ΣΧΟΛΗ ΟΔΗΓΩΝ

27.	<b>Ποια είναι η σημασία του σήματος αυτού:</b>	
α.	Επικίνδυνη αριστερή στροφή.	Σ
β.	Υποχρεωτική κατεύθυνση πορείας με στροφή αριστερά.	Λ
γ.	Υποχρεωτική διέλευση μόνο από την αριστερή πλευρά της νησίδας ή του εμποδίου.	Λ


28.	<b>Ποια είναι η σημασία του σήματος αυτού:</b>	
α.	Επικίνδυνη δεξιά στροφή.	Σ
β.	Υποχρεωτική κατεύθυνση πορείας με δεξιά στροφή.	Λ
γ.	Υποχρεωτική διέλευση μόνο από τη δεξιά πλευρά της νησίδας ή του εμποδίου.	Λ


29.	<b>Ποια είναι η σημασία του σήματος αυτού:</b>	
α.	Επικίνδυνη δεξιά στροφή.	Λ
β.	Υποχρεωτική κατεύθυνση πορείας με δεξιά στροφή.	Σ
γ.	Υποχρεωτική διέλευση μόνο από τη δεξιά πλευρά της νησίδας ή του εμποδίου.	Λ

30.	<b>Ποια είναι η σημασία του σήματος αυτού:</b>	
α.	Επικίνδυνη δεξιά στροφή.	Λ
β.	Υποχρεωτική κατεύθυνση πορείας με δεξιά στροφή.	Λ
γ.	Υποχρεωτική διέλευση μόνο από τη δεξιά πλευρά της νησίδας ή του εμποδίου.	Σ

31.	<b>Ποια είναι η σημασία του σήματος αυτού:</b>	
α.	Ολισθηρό οδόστρωμα.	Λ
β.	Επικίνδυνες δύο αντίρροπες ή διαδοχικές (συνεχείς) στροφές εκ των οποίων η πρώτη αριστερά.	Σ
γ.	Επικίνδυνες δύο αντίρροπες ή διαδοχικές (συνεχείς) στροφές, εκ των οποίων η πρώτη δεξιά.	Λ

32.	<b>Ποια είναι η σημασία του σήματος αυτού:</b>	
α.	Ολισθηρό οδόστρωμα.	Λ
β.	Επικίνδυνες δύο αντίρροπες ή διαδοχικές (συνεχείς) στροφές, εκ των οποίων η πρώτη αριστερά.	Λ
γ.	Επικίνδυνες δύο αντίρροπες ή διαδοχικές (συνεχείς) στροφές, εκ των οποίων η πρώτη δεξιά.	Σ

33.	<b>Ποια είναι η σημασία του σήματος αυτού:</b>	
α.	Ολισθηρό οδόστρωμα.	Σ
β.	Επικίνδυνες δύο αντίρροπες ή διαδοχικές (συνεχείς) στροφές, εκ των οποίων η πρώτη αριστερά.	Λ
γ.	Επικίνδυνες δύο αντίρροπες ή διαδοχικές (συνεχείς) στροφές, εκ των οποίων η πρώτη δεξιά.	Λ

34.	Ποια είναι η σημασία του σήματος αυτού:	
α.	Αποκλειστική διέλευση λεωφορείων ή τρόλεϊ.	Σ
β.	Προσέγγιση σε στάση λεωφορείων ή τρόλεϊ.	Λ
γ.	Οδός που επιτρέπεται η κυκλοφορία όλων των οχημάτων εκτός λεωφορείων ή τρόλεϊ.	Λ



ΣΧΟΛΗ ΟΔΗΓΩΝ  
ΜΠΟΥΓΑΤΣΑΣ